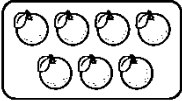


SUMATIF AKHIR SEMESTER GANJIL
MADRASAH IBTIDAIYAH KECAMATAN SINGOSARI
TAHUN PELAJARAN 2024 / 2025

Mata Pelajaran : Matematika	Nama :
Kelas : I (Satu)	Hari/Tgl :

I. Berilah tanda silang (x) pada huruf a, b dan c pada jawaban yang tepat!

1.




Jumlah jeruk di samping ada

a. 5

b. 6

c. 7
2.

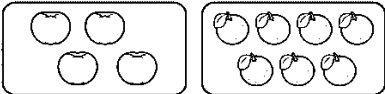


Lambang bilangan di samping di baca

a. delapan

b. sembilan

c. sepuluh
3.

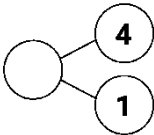


Buah apel lebih dari buah jeruk.

a. banyak

b. sedikit

c. sama banyak
4.



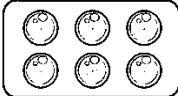
Pasangan bilangan berikut adalah.


a. 5

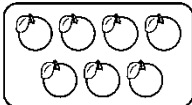
b. 6


c. 7
5.

Benda yang jumlahnya ada **7** adalah.

a. 

b. 

c. 
6.



Jumlah pensil ada

a. lima

b. enam

c. tujuh
7.

Sebelum angka **7** adalah

a. 8

b. 7


c. 6
8.

Setelah angka 9 adalah.

a. 8

b. 10

c. 7
9.




Bilangan yang tepat untuk mengisi urutan bilangan di samping adalah

a. 9

b. 7

c. 8
10.



Mobil mainan Malosi ada

a. 8

b. 9

c. 10
11.

Pasangan bilangan yang hasilnya **8** adalah.

a. 4 + 5

b. 3 + 4


c. 5 + 3

II. Jodohkan pertanyaan berikut dengan jawaban yang tepat !

No.	Pertanyaan			Jawaban
1.	Urutan setelah angka tujuh	●	●	pengurangan
2.	Bentuk donat	●	●	penjumlahan
3.	Benda berbentuk segi empat	●	●	delapan
4.	Tanda (-) disebut	●	●	lingkaran
5.	Tanda (+) disebut	●	●	papan tulis

III. Jawab dengan singkat pertanyaan di bawah ini!

1.




Operasi penjumlahan gambar di atas adalah + =

2. Pintu dan papan tulis berbentuk

3. Lambang bilangan **sepuluh** adalah

4. Ana mempunyai 10 bola. Sebanyak 3 bola ada di luar kardus. Berapa banyak bola dalam kardus?

5.



Mula-mula ada 7 siswa dalam kelas.

Sebanyak 5 siswa di dalam kelas. Berapa banyak siswa yang pergi