

**SUMATIF AKHIR SEMESTER GANJIL
MADRASAH IBTIDAIYAH KECAMATAN SINGOSARI
TAHUN PELAJARAN 2024 / 2025**

Mata Pelajaran : Matematika	Nama :
Kelas : II (Dua)	Hari/Tgl. :

I. Berilah tanda silang (x) pada huruf a, b atau c pada jawaban yang tepat!

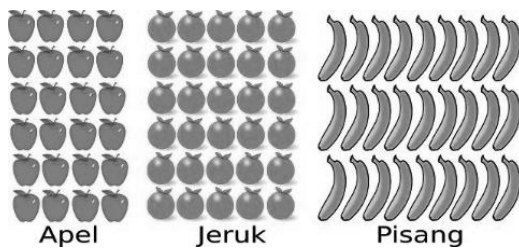
1. Perhatikan gambar berikut!



Jumlah buah pada gambar di atas adalah

- a. 13 b. 15 c. 16

Perhatikan gambar berikut untuk menjawab soal nomor 2-5!



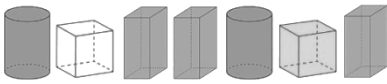
2. Buah yang lebih sedikit adalah
a. pisang b. jeruk c. apel
3. Urutkan buah dari yang paling banyak
a. jeruk, pisang, apel b. apel, pisang, jeruk c. jeruk, pisang, apel
4. Urutkan buah dari yang paling sedikit
a. jeruk, pisang, apel b. apel, pisang, jeruk c. jeruk, pisang, apel
5. Jumlah buah pisang pada gambar di atas adalah
a. 24 b. 30 c. 27
6. Pasangan nama dan lambang bilangan yang tepat adalah
a. 46 = empat puluh enam
b. 38 = tiga delapan
c. 19 = satu sembilan
7. Bentuk panjang dari 29 adalah
a. $29 = 2 \text{ satuan} + 9 \text{ satuan}$
b. $29 = 2 \text{ puluhan} + 9 \text{ satuan}$
c. $29 = 2 \text{ puluhan} + 9 \text{ puluhan}$
8. Nilai angka 5 pada bilangan 25 adalah
a. puluhan b. ratusan c. satuan
9. Nilai angka 4 pada bilangan 48 adalah
a. puluhan b. satuan c. ratusan
10. Budi memiliki 45 butir kelereng, sedangkan Rendi memiliki 25 butir kelereng. Berapakah selisih kelereng Budi dan Rendi
a. 10 b. 20 c. 15
11. Ibu membeli kue untuk arisan di rumah, ibu membeli 28 potong kue lapis, 15 potong lempeng. Berapakah jumlah kue yang ibu beli
a. 33 b. 53 c. 43

23. Perhatikan gambar berikut!

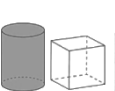

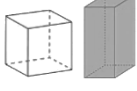


Bangun datar selanjutnya dari pola di atas adalah

- a.  b.  c. 


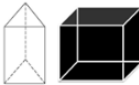
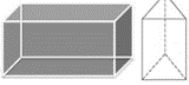


24. Bangun ruang selanjutnya dari pola di atas adalah

- a.  b.  c. 

25. Bangun ruang selanjutnya dari pola disamping adalah



- a.  b.  c. 

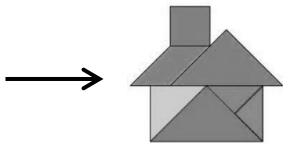
II. Jodohkan pertanyaan berikut dengan jawaban yang tepat !

No.	Pertanyaan	Jawaban
1.		• Dilarang memberi makan
2.		• 47
3.		• 16
4.		• Kubus
5.		• Balok

III. Jawab dengan singkat pertanyaan di bawah ini!

1. Perhatikan gambar berikut!

Apa saja bentuk bangun datar yang terdapat pada gambar di samping... .



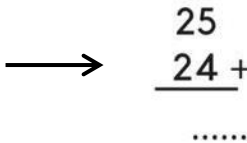
2. Bangun datar selanjutnya dari pola di samping adalah




3. Hasil dari pengurangan bilangan di samping adalah



4. Hasil dari penjumlahan bilangan di samping adalah



5.  gambar tersebut merupakan tanda