



SUMATIF AKHIR SEMESTER GANJIL
MADRASAH IBTIDAIYAH KECAMATAN SINGOSARI
TAHUN PELAJARAN 2024/2025

Mata Pelajaran : Matematika	Nama :
Kelas : III (Tiga)	Hari/Tgl :


- I. Berilah tanda silang (x) pada huruf a, b, c dan d pada jawaban yang tepat!
- Lambang bilangan dari delapan ratus lima puluh dua adalah ...
a. 8520 b. 825 c. 852 d. 582
 - Nilai angka 7 pada bilangan 732 adalah ...
a. puluhan b. satuan c. ratusan d. ribuan
 - 3 ratusan + 2 puluhan + 7 satuan = ...
a. 347 b. 327 c. 3270 d. 372
 - Pada bilangan 985 nilai dari angka 5 adalah ...
a. puluhan b. satuan c. ratusan d. ribuan
 - + 7 puluhan + 5 satuan = 475
a. 4 puluhan b. 4 ratusan c. 4 satuan d. 4 ribuan
 - 356 ... 365 tanda yang tepat untuk melengkapi kalimat disamping adalah ...
a. > b. < c. = d. ≤
 - 805, 392, 994, 165, 228 bilangan yang terkecil adalah ...
a. 228 b. 392 c. 165 d. 805
 - $72 + 21 = \dots$
a. 93 b. 83 c. 39 d. 37
 - $992 - 247 = \dots$
a. 54 b. 45 c. 25 d. 55
 - $8 \times 6 = \dots$
a. 58 b. 78 c. 48 d. 68
 - $49 : 7 = \dots$
a. 9 b. 8 c. 7 d. 6
 - $18 + \dots = 39$
a. 21 b. 18 c. 11 d. 31
 - $32 - \dots = 15$
a. 24 b. 17 c. 21 d. 18
 - Pak Dani memelihara ayam sebanyak 82 ekor ayam betina dan 73 ekor ayam jantan. Berapakah total ayam yang dimiliki Pak Dani?
a. 125 b. 145 c. 155 d. 135
 - Andi memiliki 54 butir kelereng. Sebanyak 17 kelereng diberikan kepada adiknya. Berapakah jumlah kelereng yang dimiliki Andi sekarang?
a. 43 b. 37 c. 47 d. 34
 - Pak Budi memanen buah durian yang diletakkan dalam dua keranjang. Keranjang pertama berisi 42 buah durian. Sedangkan total seluruh buah durian 78. Berapakah buah durian yang ada di keranjang kedua?
a. 36 b. 46 c. 38 d. 46
 - Ibu memanen buah manggis sebanyak 78 buah. Hasil panen tersebut sebagian besar dibagikan ke saudara dan tetangganya. Sisa manggis yang tersedia sebanyak 42 buah. Berapakah manggis yang dibagikan Ibu?
a. 36 b. 46 c. 38 d. 46
 - Meteran adalah alat untuk mengukur ...
a. berat b. panjang c. waktu d. volume
 - Berikut ini yang tidak termasuk alat pengukur berat adalah ...
a. timbangan beras b. timbangan badan c. neraca d. mistar

20. Sinta memiliki buku tulis yang ingin ia ukur panjangnya, maka alat yang digunakan adalah ...
 a. jam b. penggaris c. meteran d. timbangan
21. Berikut alat timbangan yang digunakan untuk mengukur berat badan adalah ...
- 


a.





b.



c.



d.
22.   berapa berat labu tersebut ...
 a. 4 kg b. 4 gram c. 400 gram d. 40 kg
23. 1 kg = ... gram
 a. 10 b. 100 c. 1000 d. 10000
24. 8 kg + 2000 gram = ... kg
 a. 100 kg b. 10 kg c. 20 kg d. 9 kg
25. 1 m 17 cm = ... cm
 a. 117 b. 1017 c. 127 d. 1027

II. Jodohkan pertanyaan berikut dengan jawaban yang tepat!

No.	Pertanyaan	Jawaban
1.	37 + 57	a. 69
2.	98 – 29	b. meteran
3.	7 x 6	c. 94
4.	Ayah mengukur meja menggunakan. ...	d. 1000
5.	10 kg = g	e. 42

III. Jawablah dengan singkat pertanyaan di bawah ini!

- 256, ... , 258, 259 , urutan angka yang tepat adalah
- 954 angka 5 menunjukkan nilai tempat ...
- 4 x 8 = ...
- 2 kg 700 gram = ... gram
- Pensil dapat diukur menggunakan alat ukur. ...

IV. Jawablah pertanyaan di bawah ini dengan benar!

- Tentukan nilai tempat masing-masing dari nilai 379! .
- Pak Jono memanen 175 buah wortel dan 256 terong. Berapakah total seluruh sayur yang dipanen Pak Jono?
- Bu Lastri memiliki kain 200 meter kemudian dipotong 125 meter untuk membuat baju. Berapakah sisa kain yang dimiliki Bu Lastri? .
- Sebutkan apa saja alat ukur yang dapat digunakan untuk mengukur panjang! .
- Berat badan Budi 25 kg dan berat badan Rendi 30 kg. Berapakah total kedua berat badan Budi dan Rendi?