




**SUMATIF AKHIR SEMESTER GANJIL
MADRASAH IBTIDAIYAH KECAMATAN SINGOSARI
TAHUN PELAJARAN 2024/2025**


Mata Pelajaran : IPAS	Nama :
Kelas : VI (Enam)	Hari/Tgl :

I. Berilah tanda silang (x) pada huruf a, b, c dan d pada jawaban yang tepat!

1. Tulang yang menyusun rangka badan adalah. ...
a. tulang rusuk b. tulang kering c. tulang tengkorak d. ruas-ruas jari
2. Perhatikan gambar berikut!
Jenis sendi yang ditunjukkan oleh gambar tersebut adalah. ...
a. peluru
b. engsel
c. putar
d. pelana
3. Kita dapat mengangkat meja dan menggesernya karena pengaruh dari kerja otot. ...
a. polos b. lurik c. jantung d. hasta
4. Bagian yang berperan untuk menyampaikan sinyal saraf dari otak ke tubuh adalah. ...
a. otak besar b. sistem saraf tepi c. Sum-sum tulang d. batang otak
5. Berikut adalah beberapa upaya untuk menjaga system gerak, *kecuali*. ...
a. mengonsumsi makanan yang mengandung kalsium
b. berjemur pada sinar matahari pagi
c. aktifitas fisik yang berlebihan setiap hari
d. menghindari sikap tubuh yang salah
6. Bangsa Belanda pertama kali datang ke Indonesia melalui ekspedisi Samudra yang dipimpin oleh. ...
a. Pieter Both c. Willem Daendels
b. Vanden Bosch d. Cornelis de Houtman
7. Bentuk perlawanan rakyat Jawa terhadap Belanda yang dilatarbelakangi perseteruan antara pihak keraton Yogyakarta dengan Belanda sejak kedatangan Daendels adalah perang. ...
a. Banjar b. Jagaraga c. Padri d. Diponegoro
8. Organisasi dalam pergerakan Nasional yang bertujuan untuk memajukan perdagangan di Indonesia adalah. ...
a. Budi Utomo b. Sarekat Islam c. Indische Patij d. Taman Siswa
9. Perhatikan gambar berikut!
Nama tokoh pahlawan yang memimpin perlawanan terhadap Belanda adalah. ...
a. Pangeran Diponegoro c. Teuku Umar
b. Kapitan Pattimura d. Tuanku Imam Bonjol
10. Organisasi yang dibentuk oleh Jepang yang aggotanya terdiri atas Wanita berusia 15 tahun ke atas adalah. ...
a. Keibodan b. Heiho c. Seinendan d. Fujinkai
11. Benua yang terbesar di dunia adalah Benua. ...
a. Amerika b. Asia c. Australia d. Eropa
12. Penduduk asli yang mendiami Benua Australia adalah suku. ...
a. Eskimo b. Aborigin c. Indian d. Atlantis
13. Hutan Amazon terkenal dengan keanekaragaman flora dan fauna yang tinggi. Hutan tersebut terletak di Benua. ...
a. Asia b. Amerika c. Australia d. Afrika
14. Ibu kota Negara Kamboja adalah. ...
a. Manila b. Phnom Penh c. Vientiane d. Hanoi
15. Sungai terpanjang yang ada di benua Afrika adalah sungai. ...
a. Kapuas b. Gangga c. Nil d. Amazon



16. Suatu iklim yang banyak terjadi di kawasan Asia Timur di mana ketika musim panas tidak terlalu panas dan saat musim dingin tidak terlalu dingin adalah iklim. ...
a. tropis b. subtropis c. kutub d. sedang
17. Suatu produk yang dihasilkan oleh Negara Selandia Baru berupa pakaian dari benang yang hangat dan dari serat rambut hewan ternak adalah. ...
a. kain wol b. kain sutra c. kain linen d. kain longyi
18. Negara Amerika Serikat terletak di Benua Amerika bagian. ...
a. Amerika Tengah b. Amerika Selatan c. Amerika Utara d. Amerika Barat
19. Dataran tinggi Ethiopia disebut sebagai Atap Afrika karena. ...
a. dataran tertinggi di dunia c. memiliki puncak sangat tinggi
b. memiliki luas yang paling tinggi d. hanya terdapat di benua Afrika
20. Negara di Asia Selatan yang terluas dan jumlah populasi penduduk termasuk terbesar kedua di dunia adalah. ...
a. Rusia b. Tiongkok c. India d. Arab
21. Maraknya tenaga asing menunjukkan dampak dari globalisasi di bidang. ...
a. politik b. ekonomi c. budaya d. sosial
22. Perhatikan gambar berikut!



- Gambar tersebut menunjukkan contoh warisan budaya dari negara. ...
a. Australia
b. Inggris
c. Indonesia
d. Perancis
23. Adanya kendaraan listrik yang dapat dipakai dan lebih ramah lingkungan yang menunjukkan contoh globalisasi di bidang. ...
a. ekonomi b. transportasi c. komunikasi d. sosial
 24. Sifat individualisme dapat terbentuk karena adanya globalisasi. Sikap tersebut adalah....
a. mementingkan kepentingan sendiri c. mementingkan kepentingan orang lain
b. tidak memiliki kepentingan d. mementingkan kepentingan bersama
 25. Badan khusus PBB yang bertugas menciptakan stabilitas sistem keuangan internasional adalah. ...
a. WTO b. IMF c. IBDR d. ILO
 26. Berikut yang termasuk contoh budaya benda adalah. ...
a. angklung c. upacara adat
b. tari tradisional Bali d. pertunjukan wayang
 27. Perhimpunan Bangsa-bangsa Asia Tenggara atau ASEAN didirikan di. ...
a. Singapura b. Jakarta c. Hanoi d. Bangkok
 28. Organisasi PBB didirikan pada tanggal. ...
a. 25 April 1945 b. 24 Juni 1945 c. 26 Juni 1945 d. 24 Oktober 1945
 29. Berikut dampak bagi seseorang yang selalu mengikuti perkembangan gaya hidup di televisi adalah. ...
a. hidup kaya c. Berperilaku konsumtif
b. Hidup sederhana d. Berhemat
 30. Perhatikan beberapa pernyataan berikut!
1) Indonesia ekspor kopi, tembakau ke Jerman
2) Kerjasama Indonesia dengan organisasi ASEAN
3) Pertukaran pelajar antara Indonesia dengan Inggris
4) Indonesia bergabung dengan APEC
5) Kerjasama Indonesia dengan Jepang
Bentuk Kerjasama bilateral yang tepat ditunjukkan oleh nomor...
a. 1,3,5 b. 1,4,5 c. 2,4,6 d. 3,5,6

II. Pilih dua jawaban yang benar dengan memberi tanda silang (x) pada huruf a, b, c, d !





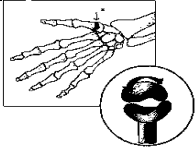

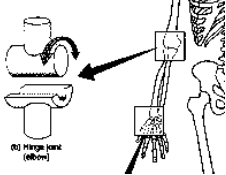
1. Yang termasuk jenis tulang pipih adalah. ...
a. tulang betis b. tulang tengkorak c. tulang belikat d. tulang hasta
2. Kesatuan pertahanan yang dibentuk oleh Jepang adalah. ...
a. seinendan b. keibodan c. romusha d. VOC




3. Bahan-bahan yang diperlukan untuk membuat batik adalah. ...
 - a. kain berpola b. pensil c. cairan lilin d. Kayu bakar
4. Ciri-ciri dari globalisasi yaitu. ...
 - a. batas antarnegara makin menipis c. informasi sulit menyebar
 - b. kegiatan perdagangan makin luas d. transportasi makin lambat
5. Peran Indonesia di PBB adalah. ...
 - a. menyebabkan konflik antara dua negara
 - b. menjaga perdamaian dunia
 - c. memberikan bantuan kemanusiaan di berbagai negara
 - d. sebagai pendiri organisasi PBB

III. Berilah jawaban huruf B jika pernyataan benar dan huruf S jika salah!

1. Jumlah penduduk tetap di Benua Antartika sekitar 14,2 juta jiwa. (B / S)
2. Sungai Nil merupakan sungai terpanjang di Benua Afrika. (B / S)
3. Tuanku Imam Bonjol adalah tokoh dari kaum agama dalam perang Padri. (B / S)
4. Negara Indonesia bergabung dengan ASEAN pada tahun 1967. (B / S)
5. Pemerintah Jepang langsung mengakui kemerdekaan Indonesia setelah proklamasi. (B / S)

IV. Jodohkan pertanyaan berikut dengan jawaban yang tepat !

No.	Pertanyaan	Jawaban
1.	Pengaruh globalisasi di bidang transportasi	a. 
2.	Pengaruh globalisasi di bidang komunikasi	b. 
3.	Benua Asia	c. 
4.	Sendi pelana	d. 
5.	Benua Australia	e. 
6.	Ir. Soekarno	f. 
7.	Warisan budaya Indonesia	g. 

No.	Pertanyaan	Jawaban
8.	Sendi engsel	h. 
9.	Benua Afrika	i. 
10.	Kapitan Pattimura	j. 

V. Jawab dengan singkat pertanyaan di bawah ini!

1. Sistem organ yang mengatur dan mengendalikan semua aktivitas tubuh adalah....
2. Benua terbesar kedua adalah benua....
3. Munculnya internet sehingga semua informasi dapat diakses oleh setiap orang menunjukkan globalisasi di bidang
4. Sendi yang memungkinkan gerakan ke segala arah disebut sendi
5. Siapakah yang membacakan teks proklamasi kemerdekaan Indonesia pada tanggal 17 Agustus 1945

VI. Jawablah pertanyaan di bawah ini dengan benar !

1. Berikan 3 contoh dari budaya tak benda !
2. Ada berapa jumlah Benua di dunia! Sebutkan!
3. Apakah tujuan kedatangan bangsa Portugis di Indonesia dalam penjelajahan Samudra ?
4. Mengapa kita harus menjaga kesehatan sistem gerak?
5. Sebutkan tiga dampak positif globalisasi!